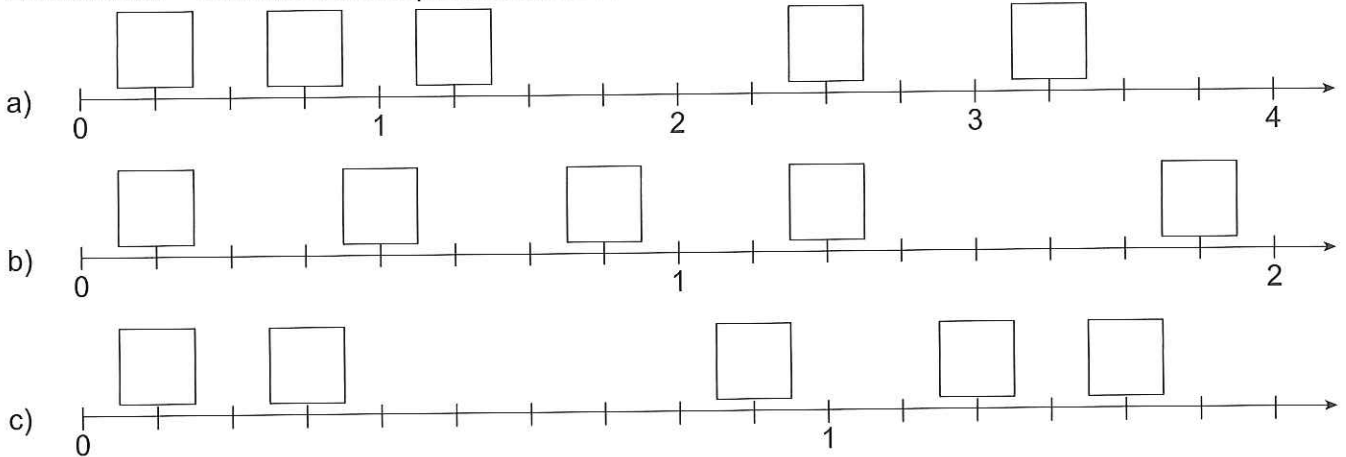
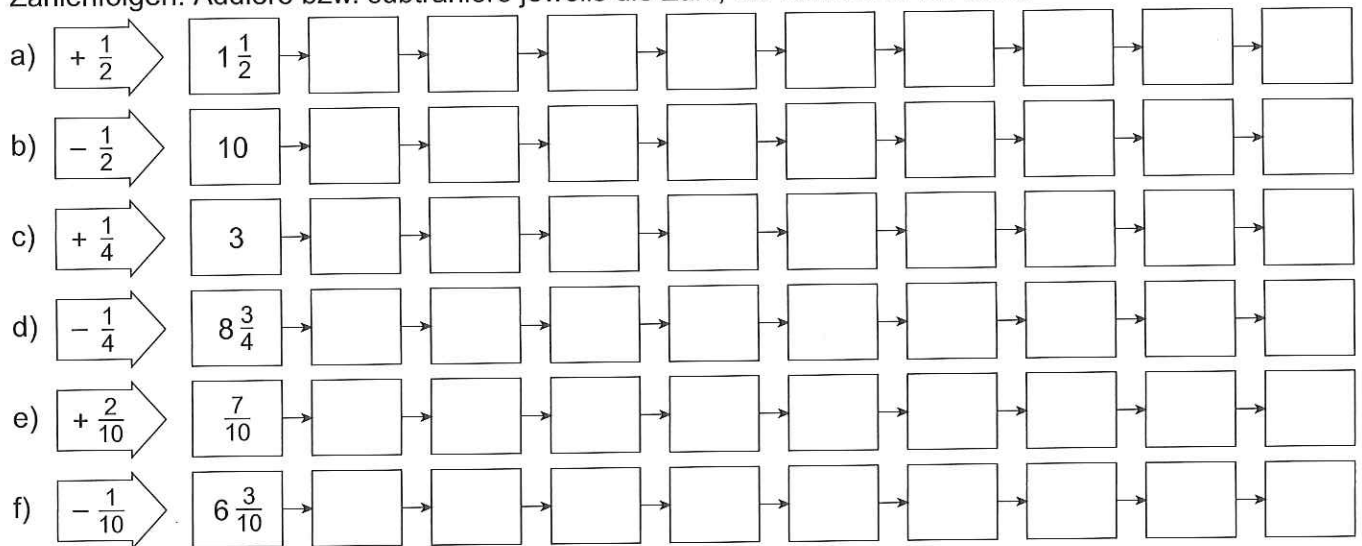


5) Zahlenstrahl – schreibe die entsprechenden Bruchzahlen in die Kästchen.



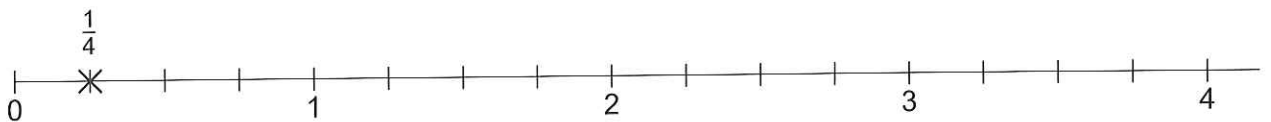
6) Zahlenfolgen: Addiere bzw. subtrahiere jeweils die Zahl, die vorne im Pfeil steht.



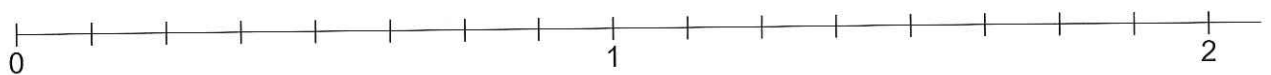
7) Ziehe auf jedem Zahlenstrahl die Strecke von 0 bis 1 bunt mit Lineal nach.

Markiere die gegebenen Zahlen mit einem Kreuz.
Ordne die Zahlen der Größe nach.

a) $\frac{1}{4}$, $3\frac{2}{4}$, $1\frac{3}{4}$, $\frac{1}{2}$



b) $\frac{5}{8}$, $1\frac{1}{8}$, $\frac{3}{8}$, $1\frac{1}{2}$



c) $\frac{2}{10}$, $\frac{9}{10}$, $1\frac{3}{10}$, $\frac{5}{10}$

