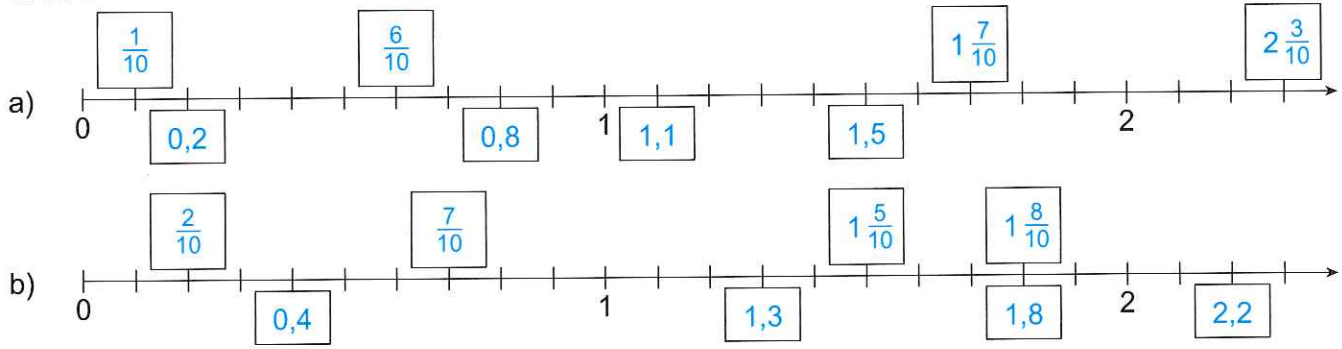
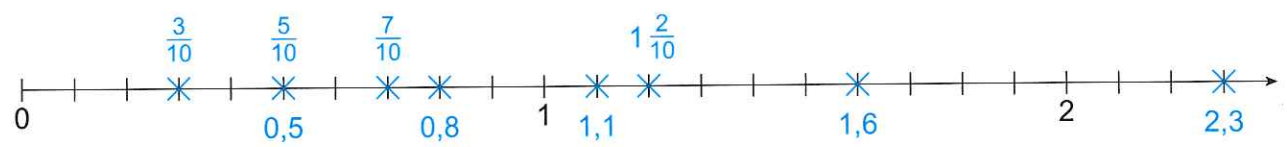


8) Zahlenstrahl. Schreibe die Zahlenwerte in die Kästchen:  
oben in Bruchschreibweise und unten in Dezimalschreibweise.



9) Markiere die gegebenen Zahlen auf dem Zahlenstrahl mit einem Kreuz und beschrifte:  
oben in Bruchschreibweise und unten in Dezimalschreibweise.

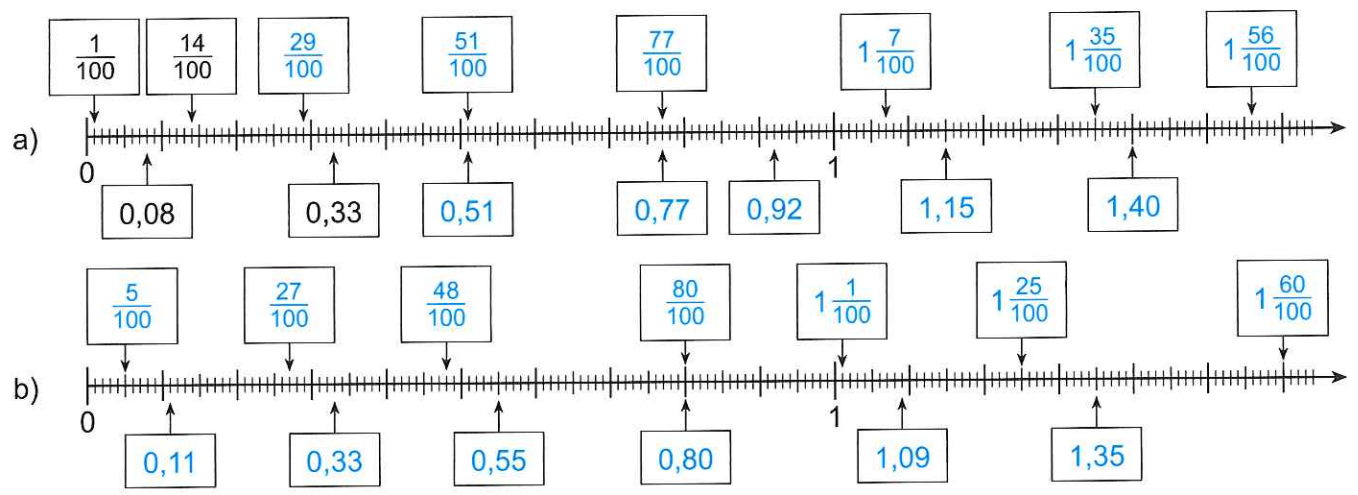
$\frac{3}{10}$ ; 0,5; 1,1;  $\frac{7}{10}$ ; 1,6;  $1\frac{2}{10}$ ; 2,3;  $\frac{5}{10}$ ; 0,8



10) Bruchzahl ↔ Dezimalzahl

$\frac{5}{10} = 0,5$	$\frac{9}{10} = 0,9$	$1\frac{2}{10} = 1,2$	$2\frac{6}{10} = 2,6$
$0,7 = \frac{7}{10}$	$0,3 = \frac{3}{10}$	$3,8 = 3\frac{8}{10}$	$4,5 = 4\frac{5}{10}$

11) Zahlenstrahl. Schreibe die Zahlenwerte in die Kästchen:  
oben in Bruchschreibweise und unten in Dezimalschreibweise.



12) Bruchzahl ↔ Dezimalzahl

$\frac{1}{100} = 0,01$	$\frac{7}{100} = 0,07$	$\frac{13}{100} = 0,13$	$\frac{67}{100} = 0,67$
$1\frac{14}{100} = 1,14$	$2\frac{48}{100} = 2,48$	$5\frac{66}{100} = 5,66$	$7\frac{9}{100} = 7,09$
$0,05 = \frac{5}{100}$	$0,02 = \frac{2}{100}$	$0,39 = \frac{39}{100}$	$0,51 = \frac{51}{100}$
$1,28 = 1\frac{28}{100}$	$7,34 = 7\frac{34}{100}$	$4,08 = 4\frac{8}{100}$	$9,01 = 9\frac{1}{100}$